







Odczytaj wartość liczbową danego koloru klocka. Oblicz sumę w każdym rzędzie. Który rząd ma największą sumę, a który najmniejszą? Wynik zapisz w pustym polu.

					
3	4	6	1	2	7

